

FICHA DE ESTUDO


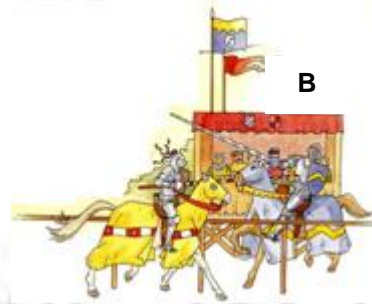
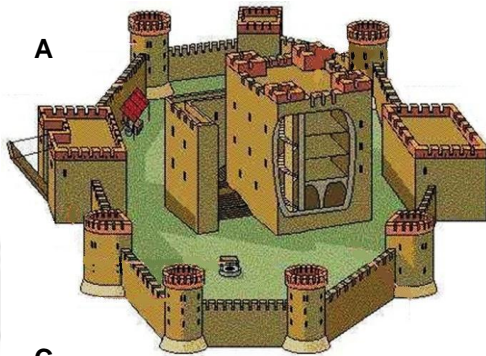
História e Geografia de Portugal



5º ano

Lê com atenção e responde.

1. Observa as imagens e responde às questões:



A – O que representa? Onde é construído? Indica três características defensivas. Onde vivia o senhor?

.....

.....

.....

.....

.....

B – O que representa? Onde acontecia? Como era a armadura e as armas? Como se distinguiam?

.....

.....

.....

C – O que representa? Quem o doou e qual o seu nome? Indica os nomes das duas zonas principais. Indica três construções comuns a todos os habitantes (onde se produzia para todos os que lá viviam).

.....

.....

.....

.....

.....

D – O que representa? Que está o senhor a fazer?

.....

.....

.....

2. Lê o texto e responde às questões.

“... Na sala de refeições, o senhor comia com a sua família e dava banquetes. As paredes eram cobertas por tapeçarias. Era frequente a presença de animais durante as refeições. No quarto, o principal móvel era a cama com um colchão de plumas e cobertas de pêlos de animais. O dia começava com o nascer do sol. Quando estava presente no castelo, o senhor era o administrador. Ele podia punir as pessoas, colectar impostos e até mesmo cunhar suas próprias moedas. A senhora era servida pelas damas de companhia e criadas. Ela passava a maior parte do dia supervisionando os seus empregados na cozinha e na costura de roupas. Ela também era responsável pela educação dos pajens ...”

(adaptado)

a) Enumera três objectos que se encontravam em cima da mesa nos banquetes do senhor.

.....

.....

.....

b) Explica porque as paredes estavam cobertas com tapeçarias.

.....

.....

c) Enumera os móveis existentes na casa do senhor.

.....

.....

.....

d) Identifica as funções do senhor.

.....
.....
.....

e) Identifica as funções da dama.

.....
.....
.....

3. Lê o texto e responde às questões.

“... A maioria do povo vivia da terra junto da mansão do senhor... Nas casas, o camponês e a sua família partilhavam o espaço com os animais... Os vilões, geralmente, construía as suas próprias casas, e tinham poucas posses. Contudo, no seu dia-a-dia, construía as suas ferramentas e utensílios. A dieta camponesa era composta, principalmente, por caldo, toucinho, queijo, pão preto e alguns legumes. A carne era salgada ou fumada para se manter fresca e só se comia em dias de festa ...”

(adaptado)

a) Explica porque o povo partilhava o seu espaço com os animais.

.....
.....
.....

b) Identifica o alimento que o povo comia em dias de festa.

.....
.....
.....

c) Indica o significado da expressão “pão preto”.

.....
.....
.....